

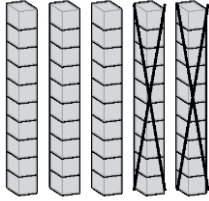
الصف الأول

# رياضيات

امتحان الشهر الثاني



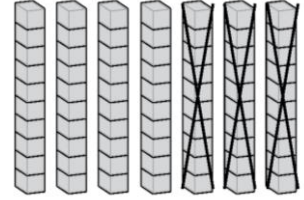
السؤال الأول: جد ناتج الطرح فيما يلي يا بطل :



عشرات - عشرات - عشرات

$$\underline{\quad} - \underline{\quad} = \underline{\quad}$$

$$\underline{\quad} - \underline{\quad} = \underline{\quad}$$



عشرات - عشرات - عشرات

$$\underline{\quad} - \underline{\quad} = \underline{\quad}$$

$$\underline{\quad} - \underline{\quad} = \underline{\quad}$$

السؤال الثاني: جد ناتج الطرح فيما يلي يا بطل :

$$65 - 10 = \boxed{\quad}$$

$$80 - 30 = \boxed{\quad}$$

$$42 - 2 = \boxed{\quad}$$

$$45 - 23 = \boxed{\quad}$$

السؤال الثالث: جد العدد المفقود فيما يلي يا بطل :

$$\boxed{\quad} - 4 = 91$$

$$51 - \boxed{\quad} = 21$$

**السؤال الرابع:** في متجر للألعاب 75 لعبة ،باع التاجر بعضها ، فبقيت 24 لعبة . كم لعبة باع التاجر؟ ( رتب الأعداد بشكل عمودي يا بطلي ):



**السؤال الخامس:** لنفكر معا :

- أنا ناتج عملية طرح  $80 - 50$  فمن أنا ؟
- أنا عدد عدد عشراي 9 فمن أنا ؟
- أنا عدد أحادي 6 وعشراي 5 فمن أنا ؟ إذا طرح مني 50 فكم يبقى ؟
- أنا جملة طرح المطروح منه 45 والمطروح 5 والباقي 40 فمن أنا ؟
- في جملة الطرح أطرح \_\_\_\_\_ من الآحاد والعشرات من

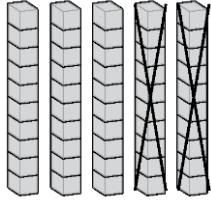
**وانت النجوم بأحلامك يا نجم المستقبل**

**انتهت الأسئلة**



## الإجابات

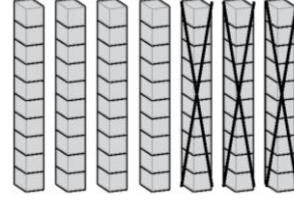
السؤال الأول: جد ناتج الطرح فيما يلي يا بطل :



عشرات - عشرات - عشرات

$$5 - 2 = 3$$

$$50 - 20 = 30$$



عشرات - عشرات - عشرات

$$7 - 3 = 5$$

$$70 - 30 = 50$$

السؤال الثاني: جد ناتج الطرح فيما يلي يا بطل :

$$65 - 10 = 55$$

$$80 - 30 = 50$$

$$42 - 2 = 40$$

$$45 - 23 = 22$$





السؤال الثالث: جد العدد المفقود فيما يلي يا بطل :

$$95 - 4 = 91$$

$$51 - 30 = 21$$

السؤال الرابع: في متجر للألعاب 75 لعبة ،باع التاجر بعضها ، فبقيت 24 لعبة . كم لعبة باع التاجر؟ ( رتب الأعداد بشكل عمودي يا بطلي ):

$$\begin{array}{r} 75 \\ - 24 \\ \hline 51 \end{array}$$

51 لعبة

منصة أساس التعليمية





السؤال الخامس: لنفكر معا :

- أنا ناتج عملية طرح  $50 - 80$  فمن أنا ؟ 30
- أنا عدد عدد عشراي 9 فمن أنا ؟ 90/91/92 ..... 99
- أنا عدد أحادي 6 وعشراي 5 فمن أنا ؟ 56
- إذا طرح مني 50 فكم يبقى ؟ 6
- أنا جملة طرح المطروح منه 45 والمطروح 5 والباقي 40 فمن أنا ؟  
 $45 - 5 = 40$
- في جملة الطرح أ طرح الآحاد من الآحاد والعشرات من العشرات

منصة أساس التعليمية

فائق النجوم بأحلامك يا نجم المستقبل

انتهت الأجوبة



# فيديوهات شرح المادة

بشكل كامل على بطاقات أساس



06 222 9990

0799 797 880

