

5

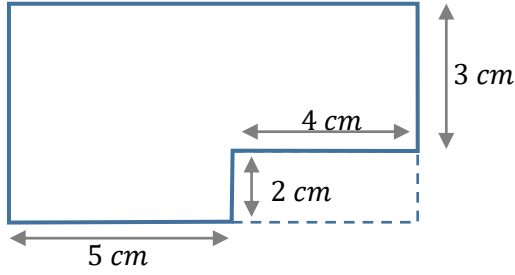
الصف الخامس

# رياضيات

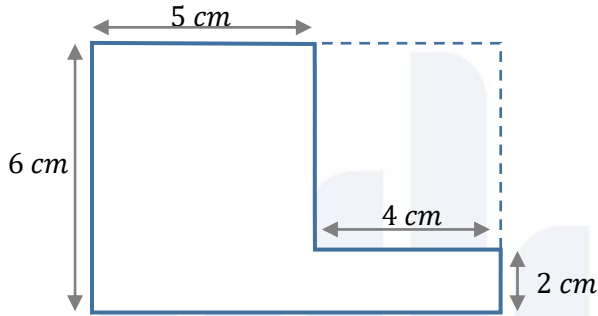
ورقة عمل 24

س1: احسب محيط كل من الأشكال الآتية:

①



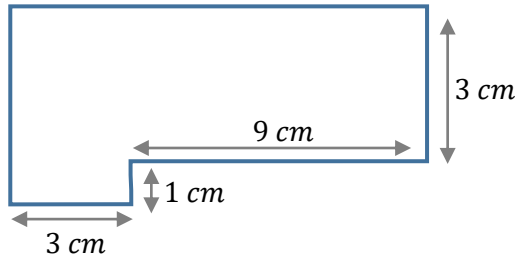
②



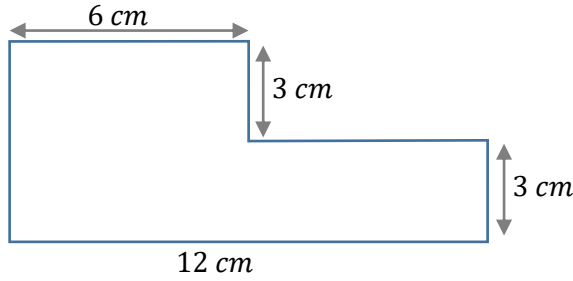
منصة أساس التعليمية

س2: احسب مساحة كل من الأشكال الآتية:

①



②



أساس  
منصة أساس التعليمية

2



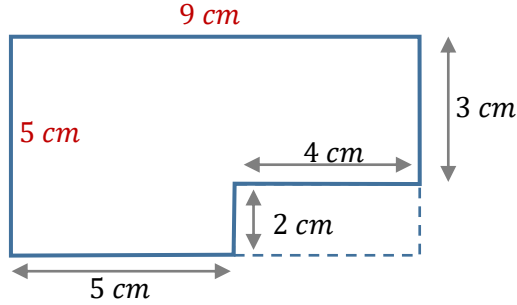
06 222 9990

إعداد المعلمة : فيروز دراغمة



س1: احسب محيط كل من الأشكال الآتية:

①

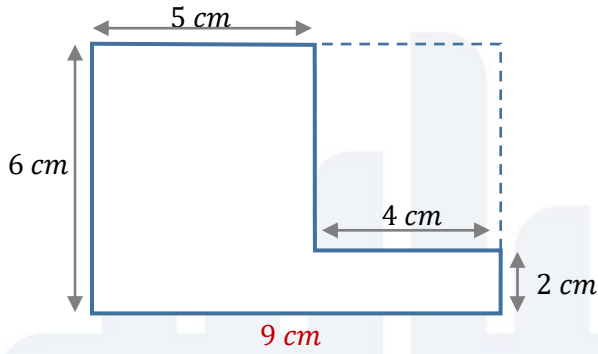


محيط المستطيل

$$2 \times 9 + 2 \times 5 =$$

$$18 + 10 = 28 \text{ cm}$$

②



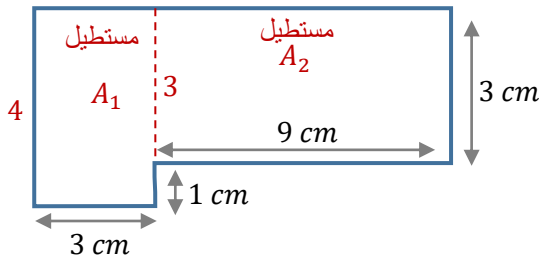
محيط المستطيل

$$2 \times 9 + 2 \times 6 =$$

$$18 + 12 = 30 \text{ cm}$$

س2: احسب مساحة كل من الأشكال الآتية:

①

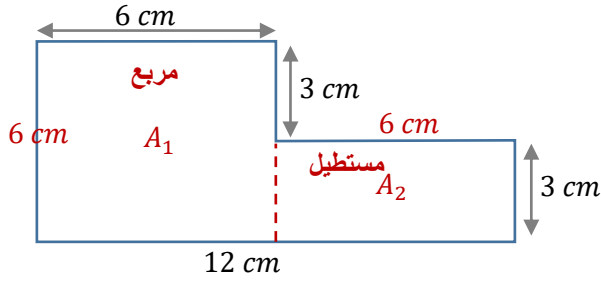


$$A_1 = 4 \times 3 = 12 \text{ cm}^2$$

$$A_2 = 9 \times 3 = 27 \text{ cm}^2$$

$$A = 12 + 27 = 39 \text{ cm}^2$$

②

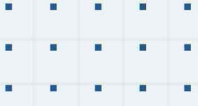


$$A_1 = 6 \times 6 = 36 \text{ cm}^2$$

$$A_2 = 6 \times 3 = 18 \text{ cm}^2$$

$$A = 36 + 18 = 54 \text{ cm}^2$$

أساس  
منصة أساس التعليمية



# فيديوهات شرح المادة بشكل كامل على بطاقات أساس

