



الصف الخامس

رياضيات

ورقة عمل 23

س1: املأ الفراغ في كل من مما يأتي:

- ① $75 h = \dots \dots \dots day , \dots \dots \dots h$
- ② $210 s = \dots \dots \dots min , \dots \dots \dots s$
- ③ $800 day = \dots \dots \dots year , \dots \dots \dots day$
- ④ $50 month = \dots \dots \dots year , \dots \dots \dots month$

س2: احسب طول الفترة الزمنية:

- ① من $9 : 15 a.m$ إلى $3 : 30 p.m$.

منصة أساس التعليمية

② من 4 : 23 p.m إلى 8 : 45 a.m

س3: أحوّل إلى توقيت 24 ساعة:

① 10 : 30 a.m

③ 12 : 05 a.m

② 4 : 25 p.m

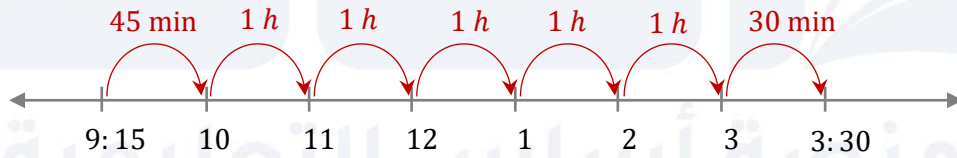
④ 12 : 00 p.m

س1: املأ الفراغ في كل من مما يأتي:

- ① $75\ h = 3\ day, 3\ h$
- ② $210\ s = 3\ min, 30\ s$
- ③ $800\ day = 2\ year, 70\ day$
- ④ $50\ month = 4\ year, 2\ month$

س2: احسب طول الفترة الزمنية:

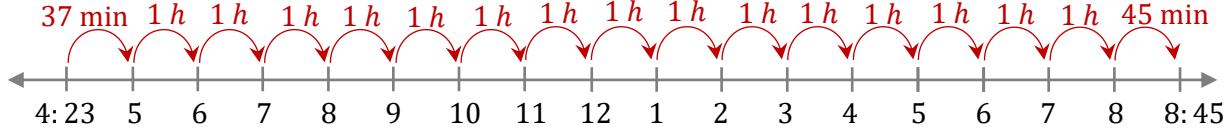
① من $9:15\ a.m$ إلى $3:30\ p.m$.



$$45\ min + 5\ h + 30\ min = 5\ h + 75\ min$$

$$= 6\ h, 15\ min$$

② من 4 : 23 p.m إلى 8 : 45 a.m



$$37 \text{ min} + 15 \text{ h} + 45 \text{ min} = 15 \text{ h} + 82 \text{ min}$$

$$= 16 \text{ h} + 22 \text{ min}$$

س3: أحول إلى توقيت 24 ساعة:

① 10 : 30 a.m

10 : 30

② 4 : 25 p.m +12

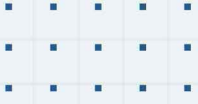
16 : 25

③ 12 : 05 a.m

00 : 05

④ 12 : 00 p.m

تبقى كما هي



فيديوهات شرح المادة بشكل كامل على بطاقات أساس



06 222 9990

0799 797 880

