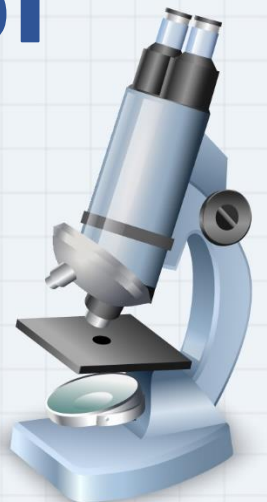
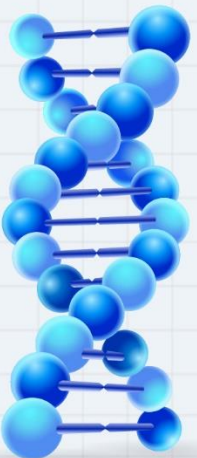


10

الصف العاشر

أحياء

امتحان الشهر الثاني



السؤال الأول: ضع دائرة حول رمز الإجابة الصحيحة:

(1) العالم الذي فسّر آلية عمل البريونات هو :

أ- ديمتري ايفانوفسكي

ب- ويندل ستانلي

ج- مارتينيوس بايرينك

د- ستانلي بروزينر

(2) الهزال المزمن هو مرض يصيب:

أ- الخراف

ب- الغزلان

ج- الإنسان

د- البطاطا

(3) مدّة الحضانة في البريونات تصل إلى:

أ- 4 سنوات

ب- 6 سنوات

ج- 8 سنوات

د- 10 سنوات

(4) أصغر مستويات التصنيف هو :

أ- المملكة

ب- العائلة

ج- النوع

د- الجنس

(5) قسّم العالم ووتر الكائنات الحية إلى:

أ. 4 ممالك

ب- ممالك

ج- 6 ممالك

د- 8 ممالك

(6) يُجمع العائلات المتشابهة في:

أ. العائلة

ب- الصف

ج- القبيلة

د- الرتبة

(7) المرض الذي يسببه البريون للإنسان هو:

أ. كروتزفيلد جاكوب

ب- الدرنه

ج- الداء العصبي

د- (أ+ب)

السؤال الثاني: أكمل الفراغ بالمصطلح المناسب:

1. العتائق هي
2. يؤثر تجمع البريونات داخل الخلية على
3. تصنيف الكائنات الحية حسب العالم ووز هو:
4. عدد مستويات التصنيف هو:
5. مستويات التصنيف بالترتيب هي

السؤال الثالث: الورد الفرنسي، إذا كانت كلمة الورد باللاتينية هي Rosa والفرنسية Gallica

ما هو الاسم العلمي:

السؤال الرابع: حدّد الخطأ في الأسماء العلمية التالية:

1. homo sapiens

2. Apis

3. SALIVia office

السؤال الخامس: أكمل الجدول التالي:

البريون	الفيرويد	وجه المقارنة
		التركيب

السؤال السادس: حدّد الخطأ بالجملة التالية بالنسبة لخصائص الفيرويدات:

1. الفيرويدات تصيب الحيوانات فقط.
2. الجزء الذي يدخل في تركيب الفيرويد هو الغلاف البروتيني.
3. يحتوي الفيرويد على DNA.

السؤال السابع: فسّر: تنتقل البريونات من الحيوانات إلى البشر.

.....

.....

انتهت الامتحان

الإجابات

السؤال الأول: ضع دائرة حول رمز الإجابة الصحيحة:

1. العالم الذي فسّر آلية عمل البريونات هو :
أ- ديمتري ايفانوفسكي
ب- ويندل ستانلي
ج- مارتينيوس بايرينك
د- ستانلي بروتينز
2. الهزال المزمن هو مرض يصيب :
أ- الخراف
ب- الغزلان
ج- الإنسان
د- البطاطا
3. مدّة الحضانة في البريونات تصل إلى :
أ- 4 سنوات
ب- 6 سنوات
ج- 8 سنوات
د- 10 سنوات
4. أصغر مستويات التصنيف هو :
أ- المملكة
ب- العائلة
ج- النوع
د- الجنس
5. قسّم العالم ووتر الكائنات الحية إلى :
أ. 4 ممالك
ب- ممالك
ج- 6 ممالك
د- 8 ممالك
6. يُجمع العائلات المتشابهة في :
أ. العائلة
ب- الصف
ج- القبيلة
د- الرتبة
7. المرض الذي يسببه البريون للإنسان هو :
أ. كروتزفيلد جاكوب
ب- الدرنه
ج- الداء العصبي
د- (أ+ب)

السؤال الثاني: أكمل الفراغ بالمصطلح المناسب:

1. العتائق هي الأثریات
2. يؤثر تجمع البريونات داخل الخلية على العمليات الحيوية
3. تصنيف الكائنات الحية حسب العالم ووز هو: نطاق البكتيريا/ نطاق الأثریات/ نطاق حقيقية النواة
4. عدد مستويات التصنيف هو 7 مستويات
5. مستويات التصنيف بالترتيب هي مملكة/ قبيلة/ صف/ رتبة/ عائلة/ جنس/ نوع

السؤال الثالث: الورد الفرنسي، إذا كانت كلمة الورد باللاتينية هي Rosa والفرنسية Gallica ما هو الاسم العلمي: Rosa galilca...

السؤال الرابع: حدّد الخطأ في الأسماء العلمية التالية:

1. homo sapiens
Homo sapiens
2. Apis
لا يوجد مقطع ثاني يمثل النوع
3. SALIVia office
Salivia office



السؤال الخامس: أكمل الجدول التالي:

البريون	الفيرويد	وجه المقارنة
بروتينات طبيعية التفت بصورة مغلوة	جزء RNA حلقي صغير غير محاط بغلاف بروتين	التركيب

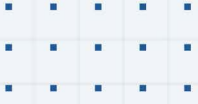
السؤال السادس: حدّد الخطأ بالجمال التالية بالنسبة لخصائص الفيرويدات:

1. الفيرويدات تصيب الحيوانات فقط. تصيب النباتات فقط
2. الجزء الذي يدخل في تركيب الفيرويد هو الغلاف البروتيني. غير محاط بغلاف
3. يحتوي الفيرويد على DNA. هو جزء RNA

السؤال السابع: فسّر: تنتقل البريونات من الحيوانات إلى البشر.

عن طريق أكل لحوم الحيوانات المصابة بالبريونات لأن طهي هذه اللحوم لا يقضي

انتهت الإجابات



فيديوهات شرح المادة بشكل كامل على بطاقات أساس



06 222 9990

0799 797 880

