

رياضيات

1

الصف الأول

الامتحان النهائي
الفصل الثاني

السؤال الأول: جد ناتج ما يلي يا بطل :

$$32 + 44 = \boxed{}$$

$$30 + 10 = \boxed{}$$

$$80 - 50 = \boxed{}$$

$$63 - 12 = \boxed{}$$

$$\begin{array}{r} 4 \ 5 \\ + 2 \ 4 \\ \hline \end{array}$$

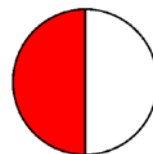

$$\begin{array}{r} 9 \ 8 \\ - 5 \ 6 \\ \hline \end{array}$$

السؤال الثاني: جد العدد المفقود يا بطل :

$$\boxed{} - 32 = 53$$

$$43 + \boxed{} = 99$$

السؤال الثالث: اكتب الكسر الذي يمثل الجزء الملون يا بطل :



السؤال الرابع: ضع خط تحت اسم المجسم في الصورة يا بطل :

متوازي مستطيلات

مكعب



كرة

هرم



مخروط

مكعب



السؤال الخامس: ارسم حسب المطلوب يا بطل :

الرسم	المطلوب
	مربع و مستطيل
	شكل مستو له 0 ضلع و 0 رأس
	مثلث

السؤال السادس: اقرأ الوقت ، ثم اكتبه في الساعة الرقمية يا بطل :



السؤال السابع: ارسم المبلغ الذي يدل على سعر الطائرة حقيبة يا بطل :



منصة أساس التعليمية



السؤال الثامن: لنفكر معا يا بطل :



أنا اليوم الذي يذهب فيه المسلمون إلى المسجد لأداء صلاة الجمعة ؟
إذا كان اليوم هو الثلاثاء ، فالأمس كان ؟
من الأطول قلم رصاص أم الطفل الصغير ؟
من الأثقل الفيل أم العصفور ؟
من الأكثر سعة خزان الماء أم كأس الماء ؟
أنا شكل لي 3 أضلاع و 3 رؤوس فمن أنا ؟

مما لنخاطب القوم بأحوالنا وأمنياتنا

انتهت الأسئلة



الإجابات

السؤال الأول: جد ناتج ما يلي يا بطل :

$$32 + 44 = 76$$

$$30 + 10 = 40$$

$$80 - 50 = 30$$

$$63 - 12 = 51$$

$$\begin{array}{r} 4 \ 5 \\ + 2 \ 4 \\ \hline 6 \ 9 \end{array}$$

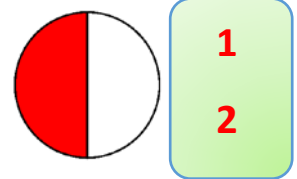
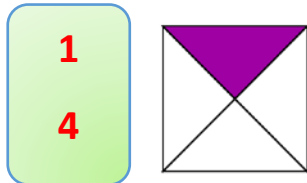
$$\begin{array}{r} 9 \ 8 \\ - 5 \ 6 \\ \hline 4 \ 2 \end{array}$$

السؤال الثاني: جد العدد المفقود يا بطل :

$$85 - 32 = 53$$

$$43 + 56 = 99$$

السؤال الثالث: اكتب الكسر الذي يمثل الجزء الملون يا بطل :



السؤال الرابع: ضع خط تحت اسم المجسم في الصورة يا بطل :

متوازي مستطيلات

مكعب



كرة

هرم






مخروط


مكعب



السؤال الخامس: ارسم حسب المطلوب يا بطل :

الرسم	المطلوب
	مربع و مستطيل
	شكل مستو له 0 ضلع و 0 رأس
	مثلث

السؤال السادس: اقرأ الوقت ، ثم اكتبه في الساعة الرقمية يا بطل :



السؤال السابع: ارسم المبلغ الذي يدل على سعر الطائرة حقيبة يا بطل :



يرسم الطالب القطع النقدية التي تمثل المبلغ يوجد أكثر
من حل للسؤال

السؤال الثامن: لنفكر معا يا بطل :



أنا اليوم الذي يذهب فيه المسلمون إلى المسجد لأداء صلاة الجمعة ؟
الجمعة

إذا كان اليوم هو الثلاثاء ، فالأمس كان ؟ **الاثنين**
من الأطول قلم رصاص أم الطفل الصغير ؟ **الطفل الصغير**
من الأثقل الفيل أم العصفور ؟ **الفيل**

من الأكثر سعة خزان الماء أم كأس الماء ؟ **خزان الماء**
أنا شكل لي 3 أضلاع و 3 رؤوس فمن أنا ؟ **المثلث**

وما لنخاطب القمر بأحلامنا وأمنياتنا

انتهت الامتحان



أساس

منصة أساس التعليمية

فيديوهات شرح المادة

بشكل كامل على
منصة أساس



06 222 9990

0799 797 880

