

رياضيات

2

الصف الثاني

الامتحان النهائي
الفصل الثاني



السؤال الأول: جد ناتج ما يلي يا بطل :

2×2

4×3

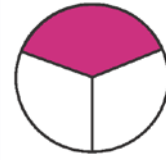
5×5

$20 \div 4$


$8 \div 2$


$15 \div 3$

السؤال الثاني: أكتب الكسر الذي يمثل الجزء الملون يا بطل



السؤال الثالث: أكمل الجدول التالي يا بطل :

شكل المجسم	اسم المجسم	عدد الأحرف	عدد الأوجه	عدد الرؤوس
	8

	أسطوانة	0	2
	1	1

السؤال الرابع: ارسم حسب المطلوب يا بطل :

المطلوب	الرسم
شكل مستو له 5 أضلاع و 5 رؤوس	
شكل مستو له 0 أضلاع و 0 رؤوس	
شكل مستو له 4 أضلاع و 4 رؤوس	

السؤال الخامس: من التقويم المجاور أجب عن الأسئلة يا بطل :

ما اسم هذا الشهر ؟

كم يوما فيه ؟

ما اسم الشهر السابق والتالي له ؟

السؤال السادس: أقرأ الوقت ، ثم أكتبه في الساعة الرقمية يا بطل :



السؤال السابع: لنفكر معا يا بطل:



- 1 : أنا مجسم لي 12 حرف و 8 رؤوس و6 أوجه فمن أنا ؟
- 2 : أجد طول قلم الرصاص باستخدام وحدة ؟
- 3 : أجد طول الخزانة باستخدام وحدة ؟
- 4 : أستعمل _____ لقياس الكتلة الكبيرة ، وأستعمل الغرام لقياس الكتلة _____ .
- 5 : أستعمل _____ لقياس السعة الكبيرة ، وأستعمل المليلتر لقياس السعة _____ .
- 6 : أكتب قيمة المبلغ الذي بالصورة ؟



وما لنخاطب القمر بأحلامنا وأمنياتنا

انتهت الامتحان



الإجابات

السؤال الأول: جد ناتج ما يلي يا بطل :

$2 \times 2 = 4$

$4 \times 3 = 12$

$5 \times 5 = 25$

$20 \div 4 = 5$

$8 \div 2 = 4$

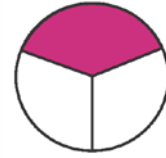
$15 \div 3 = 5$

السؤال الثاني: أكتب الكسر الذي يمثل الجزء الملون يا بطل

$\frac{1}{6}$






$\frac{1}{3}$



السؤال الثالث: أكمل الجدول التالي يا بطل :

شكل المجسم	اسم المجسم	عدد الأحرف	عدد الأوجه	عدد الرؤوس
	هرم	8	5	5
	كرة	0	0	0
	أسطوانة	0	2	0
	مخروط	0	1	1

السؤال الرابع: ارسم حسب المطلوب يا بطل :

المطلوب	الرسم
شكل مستو له 5 أضلاع و 5 رؤوس	
شكل مستو له 0 أضلاع و 0 رؤوس	
شكل مستو له 4 أضلاع و 4 رؤوس	

السؤال الخامس: من التقويم المجاور أجب عن الأسئلة يا بطل :

حزيران

الأحد	الاثنين	الثلاثاء	الأربعاء	الخميس	الجمعة	السبت
				1	2	3
4	5	6	7	8	9	10
11	12	13	14	15	16	17
18	19	20	21	22	23	24
25	26	27	28	29	30	

ما اسم هذا الشهر؟ حزيران

كم يوما فيه؟ 30 يوم

ما اسم الشهر السابق والتالي له؟ السابق أيار والتالي تموز

السؤال السادس: أقرأ الوقت ، ثم أكتبه في الساعة الرقمية يا بطل :



12:45



10:25

السؤال السابع: لنفكر معا يا بطل:



- 1 : أنا مجسم لي 12 حرف و 8 رؤوس و6 أوجه فمن أنا ؟ مكعب / متوازي مستطيلات
- 2 : أجد طول قلم الرصاص باستخدام وحدة ؟ cm
- 3 : أجد طول الخزانة باستخدام وحدة ؟ m
- 4 : أستعمل الكيلو غرام لقياس الكتلة الكبيرة ، وأستعمل الغرام لقياس الكتلة غرام.
- 5 : أستعمل لتر لقياس السعة الكبيرة ، وأستعمل المليلتر لقياس السعة مللتر.
- 6 : أكتب قيمة المبلغ الذي بالصورة ؟



50 دينار



100 قرش

وما لنخاطب القمر بأحلامنا وأمنياتنا

انتهت الامتحان



أساس

منصة أساس التعليمية

فيديوهات شرح المادة

بشكل كامل على
منصة أساس



06 222 9990

0799 797 880

